

Описание контрольных измерительных материалов для проведения Промежуточной аттестации по истории за учебный год для учащихся 6 класса

1. Подходы к отбору содержания, разработке структуры проверочной работы

В рамках промежуточной аттестации наряду с предметными результатами обучения учащихся основной школы оцениваются также метапредметные результаты, в том числе уровень сформированности универсальных учебных действий (УУД) и овладения межпредметными понятиями.

Предусмотрена оценка сформированности следующих УУД.

Регулятивные действия: целеполагание, планирование, контроль и коррекция, саморегуляция.

Общеучебные универсальные учебные действия: поиск и выделение необходимой информации; структурирование знаний; осознанное и произвольное построение речевого высказывания в письменной форме; выбор наиболее эффективных способов решения задач в зависимости от конкретных условий; рефлексия способов и условий действия; контроль и оценка процесса и результатов деятельности; смысловое чтение; определение основной и второстепенной информации; моделирование, преобразование модели.

Логические универсальные действия: анализ объектов в целях выделения признаков; синтез, в том числе самостоятельное достраивание с восполнением недостающих компонентов; выбор оснований и критериев для сравнения; подведение под понятие; выведение следствий; установление причинно-следственных связей; построение логической цепи рассуждений; доказательство.

Коммуникативные действия: умение с достаточной полнотой и точностью выражать свои мысли в соответствии с задачами и условиями коммуникации, владение монологической и диалогической формами речи в соответствии с грамматическими и синтаксическими нормами родного языка. Проверочная работа нацелена на выявление овладения школьниками: базовыми историческими знаниями; опытом применения историкокультурного подхода к оценке социальных явлений; умением применять исторические знания для осмысления сущности общественных явлений; умением искать, анализировать, сопоставлять и оценивать содержащуюся в различных источниках информацию о событиях и явлениях прошлого.

Проверочная работа для 6 класса посвящена истории России с древнейших времен до конца XV в. и истории Средних веков (история зарубежных стран с 476 г. н.э. до конца XV в.) с учетом объема изученного материала к моменту написания работы. В работе также проверяется знание истории, культуры родного края.

2. Структура проверочной работы

Работа состоит из 10 заданий. Ответами к заданиям 1, 2, 8 и 9 являются последовательность цифр, буква или слово (словосочетание).

Задания 3, 4, 6, 7 и 10 предполагают развернутый ответ. Задание 5 предполагает работу с контурной картой.

3. Кодификаторы проверяемых элементов содержания и требований к уровню подготовки обучающихся

В табл. 1 приведен кодификатор проверяемых элементов содержания.

Таблица 1

Код	Проверяемые элементы содержания
1	История России
1.1	Образование государства Русь. Первые русские князья
1.2	Русь при князе Владимире Святославиче. Принятие Русью христианства и его значение
1.3	Деятельность Ярослава Мудрого
1.4	Русь при Ярославичах. Деятельность Владимира Мономаха
1.5	Формирование системы земель – самостоятельных государств
1.6	Походы Батые на Русь
1.7	Ордена крестоносцев и борьба с их экспансией на западных границах Руси. Александр Невский
1.8	Ордынское владычество на Руси. Противостояние Твери и Москвы. Иван Калита
1.9	Московское государство при Дмитрии Донском. Куликовская битва. Закрепление первенствующего положения московских князей
1.10	Формирование единого Русского государства в XV в. Деятельность Ивана III. Присоединение Новгорода и Твери. Ликвидация зависимости от Орды
1.11	Культурное пространство Руси в IX–первой половине XII в.
1.12	Развитие культуры в русских землях во второй половине XII— XIV в.
1.13	Формирование культурного пространства единого Российского государства (XV в.)
2	История Средних веков
2.1	Раннее Средневековье (V – середина XI в.)
2.2	Развитое Средневековье (середина XI – XIII в.)
2.3	Позднее Средневековье (XIV–XV вв.)
2.4	Культура Западной Европы в Средние века
2.5	Народы Азии, Америки и Африки в Средние века
3	История родного края

В табл. 2 приведен кодификатор проверяемых требований к уровню подготовки.

Таблица 2

Код	Проверяемые требования к уровню подготовки
1	Метапредметные
1.1	Умение определять понятия, создавать обобщения, устанавливать аналогии, классифицировать, самостоятельно выбирать основания и критерии для классификации
1.2	Умение устанавливать причинно-следственные связи, строить логическое рассуждение, умозаключение (индуктивное, дедуктивное и по аналогии) и делать выводы
1.3	Умение создавать, применять и преобразовывать знаки и символы, модели и схемы для решения учебных и познавательных задач
1.4	Смысловое чтение
1.5	Умение осознанно использовать речевые средства в соответствии с задачей коммуникации; владение устной и письменной речью, монологической контекстной речью
1.6	Умение оценивать правильность выполнения учебной задачи, собственные возможности ее решения
1.7	Владение основами самоконтроля, самооценки, принятия решений и осуществления осознанного выбора в учебной и познавательной деятельности
2	Предметные
2.1	Овладение базовыми историческими знаниями, а также представлениями о закономерностях развития человеческого общества в социальной, экономической, политической, научной и культурной сферах
2.2	Умения искать, анализировать, сопоставлять и оценивать содержащуюся в различных источниках информацию о событиях и явлениях прошлого и настоящего
2.3	Способность определять и аргументировать свое отношение к содержащейся в различных источниках информации о событиях и явлениях прошлого и настоящего
2.4	Умение применять исторические знания для осмысления сущности общественных явлений
2.5	Владение опытом историко-культурного, цивилизационного подхода к оценке социальных явлений, современных глобальных процессов
2.6	Сформированность основ гражданской, этнонациональной, социальной, культурной самоидентификации личности обучающегося

4. Распределение заданий проверочной работы по позициям кодификаторов

Распределение заданий по позициям кодификаторов приведено в табл. 3.

Таблица 3

Проверяемые требования (умения)	Блоки ПООП ООО выпускник научится / получит возможность научиться	Код КЭС / КТ	Уровень сложно- сти	Максимальны й балл за выполнение задания	Примерное время выполнения задания обучающимся (в минутах)
Умение создавать, применять и преобразовывать знаки и символы, модели и схемы для решения учебных и познавательных задач	Работать с изобразительными историческими источниками, понимать и интерпретировать содержащуюся в них информацию	1.1–2.5/ 2.2	Б	2	3
Смысловое чтение	Проводить поиск информации в исторических текстах, материальных исторических памятниках Средневековья	1.1–2.5/ 2.2	Б	1	3
Умение определять понятия, создавать обобщения, устанавливать аналогии, классифицировать, самостоятельно выбирать основания и критерии для классификации; владение основами самоконтроля, самооценки, принятия решений и осуществления осознанного выбора в учебной и познавательной деятельности	Умение объяснять смысл основных хронологических понятий, терминов	1.1–2.5/ 2.1	Б	3	5
Умение осознанно использовать речевые средства в соответствии с задачей коммуникации; владение основами самоконтроля, самооценки, принятия решений и осуществления осознанного выбора в учебной и познавательной деятельности	Давать оценку событиям и личностям отечественной и всеобщей истории Средних веков	1.1–2.5/ 2.1	П	3	7
Умение создавать, применять и преобразовывать знаки и символы, модели и схемы для решения учебных и познавательных задач; владение основами самоконтроля, самооценки, принятия решений и осуществления осознанного выбора в учебной и познавательной	Использовать историческую карту как источник информации о территории, объектах экономический и культурных центрах Руси и других государств в Средние века, о направлениях крупнейших передвижений людей –	1.1–2.5/ 2.2, 2.5	Б	1	5

деятельности	походов, завоеваний, колонизаций и др.				
Умение создавать, применять и преобразовывать знаки и символы, модели и схемы для решения учебных и познавательных задач; владение основами самоконтроля, самооценки, принятия решений и осуществления осознанного выбора в учебной и познавательной деятельности	Использовать историческую карту как источник информации о территории, об экономических и культурных центрах Руси и других государств в Средние века, о направлениях крупнейших передвижений людей – походов, завоеваний, колонизаций и др.	1.1–2.5/ 2.2	П	3	5
Умение устанавливать причинно-следственные связи, строить логическое рассуждение, умозаключение (индуктивное, дедуктивное и по аналогии) и делать выводы; владение основами самоконтроля, самооценки, принятия решений и осуществления осознанного выбора в учебной и познавательной деятельности	Объяснять причины и следствия ключевых событий отечественной и всеобщей истории Средних веков	1.1–2.5/ 2.4, 2.5	В	2	5
Умение объединять предметы и явления в группы по определенным признакам, сравнивать, классифицировать и обобщать факты и явления	Раскрывать характерные, существенные черты ценностей, господствовавших в средневековых обществах, религиозных воззрений, представлений средневекового человека о мире; сопоставлять развитие Руси и других стран в период Средневековья, показывать общие черты и особенности	3/ 2.5, 2.6	Б	1	3

Умение определять понятия, создавать обобщения, устанавливать аналогии, классифицировать, самостоятельно выбирать основания и критерии для классификации	Локализовать во времени общие рамки и события Средневековья, этапы становления и развития Российского государства	1.1–2.5/ 2.1	Б	1	3
Умение создавать обобщения, классифицировать, самостоятельно выбирать основания и критерии для классификации; сформированность важнейших культурно-исторических ориентиров для гражданской, этнонациональной, социальной, культурной самоидентификации личности	Реализация историко-культурологического подхода, формирующего способности к межкультурному диалогу, восприятию и бережному отношению к культурному наследию Родины	3/ 2.5, 2.6	П	3	5

количество заданий – 10, из них по уровню сложности: Б – 6; П – 3; В – 1.
время выполнения проверочной работы – 60 мин.
максимальный первичный балл – 20.

5. Распределение заданий проверочной работы по уровню сложности

Распределение заданий по уровню сложности приведено в табл. 4.

Таблица 4

№	Уровень сложности	Количество заданий	Максимальный первичный балл	Процент от максимального первичного балла
1	Базовый	6	9	45
2	Повышенный	3	9	45
3	Высокий	1	2	10
	Итого	10	20	100

6. Типы заданий, сценарии выполнения заданий

Задание 1 нацелено на проверку умения работать с иллюстративным материалом (изобразительной наглядностью: обучающийся должен соотнести изображения с событиями (процессами), к которым относятся эти изображения).

Задание 2 проверяет умение работать с текстовыми историческими источниками. В задании необходимо определить, к какому из представленных в задании событий (процессов) непосредственно относится данный исторический источник.

Задание 3 нацелено на проверку знания исторической терминологии и состоит из двух частей. В первой части от учащегося требуется соотнести данный в задании

термин (понятие) с событием (процессом). Во второй части задания нужно объяснить значение этого термина (понятия).

Задание 4 нацелено на проверку знания исторических персоналий. Учащемуся необходимо выбрать одно из событий (процессов) и указать две исторические личности, непосредственно связанные с выбранным событием, процессом. Затем нужно указать одно любое действие каждой из этих личностей, в значительной степени повлиявшее на ход и (или) результат этого события (процесса). Ответ оформляется в виде таблицы.

Задание 5 нацелено на проверку умения работать с исторической картой. В задании требуется выбрать на контурной карте один четырехугольник, образованный градусной сеткой, в котором полностью или частично происходило выбранное учащимся событие (процесс).

Задание 6 нацелено на проверку знания географических объектов, связанных с определенными историческими событиями, процессами. В задании требуется написать название любого объекта (населенного пункта, реки или др.), который непосредственно связан с выбранным событием, процессом, а затем объяснить, как указанный объект (город, населенный пункт, река или др.) связан с этим событием (процессом).

Задание 7 проверяет знание причин и следствий и умение формулировать положения, содержащие причинно-следственные связи. В задании требуется объяснить, почему выбранное событие (процесс) имело большое значение в истории нашей страны и/или истории зарубежных стран.

Задания 8 и 9 нацелены на проверку знания фактов истории культуры России и зарубежных стран. В задании 8 требуется определить, какие из представленных изображений являются памятниками культуры России, а какие – памятниками культуры зарубежных стран. В задании 9 необходимо дать ответ на задание в виде словосочетания. Задание 10 проверяют знание истории родного края.

7. Система оценивания выполнения отдельных заданий и проверочной работы в целом

Задания 1 и 8 считаются выполненными верно, если правильно указана последовательность цифр. Правильный ответ на задание 1 оценивается 2 баллами. Если в ответе допущена одна ошибка (в том числе написана лишняя цифра или не написана одна необходимая цифра), выставляется 1 балл; если допущено две или более ошибки – 0 баллов.

Задание 2 считается выполненным верно, если правильно указана буква. Задание 9 считается выполненным верно, если правильно указано название города (модель 1) или дан ответ в виде слова, словосочетания (модель 2). Правильные ответы на задания 2, 8 и 9 оцениваются 1 баллом.

Задания с развернутым ответом и задание на работу с контурной картой оцениваются в зависимости от полноты и правильности ответа в соответствии с критериями оценивания.

Максимальный первичный балл – 20.

Рекомендации по переводу первичных баллов в отметки по пятибалльной шкале

Отметка по пятибалльной шкале	«2»	«3»	«4»	«5»
Первичные баллы	0–5	6–10	11–15	16–20

8. Время выполнения варианта проверочной работы

На выполнение работы отводится 45 минут.

Система оценивания промежуточной аттестации по истории 6 класс

Вариант №

1. Каждая из иллюстраций, приведённых ниже, относится к одному из указанных в перечне событий (процессов). Установите соответствие между событиями (процессами) и иллюстрациями: к каждому событию (процессу) подберите по одной иллюстрации.




1)



2)



3)



4)

Запишите в таблицу выбранные цифры под соответствующими буквами.

Ответ:

	Б	В	Г
--	---	---	---

А			
	<input type="checkbox"/>	<input type="checkbox"/>	<input type="checkbox"/>

Перечень событий (процессов)

А) внешняя политика первых русских князей в 882–972 гг.

Б) поддержка Русской Православной Церковью процесса объединения русских земель в XIV в.

В) возникновение и становление английского парламентаризма

Г) укрепление великокняжеской власти во II половине XV в.

Пояснение.

А) внешняя политика первых русских князей в 882–972 гг. — 1) *поход Олега на Царьград.*

Б) поддержка Русской Православной Церковью процесса объединения русских земель в XIV в. — 2) *благословение Дмитрия Донского Сергием Радонежским перед Куликовской битвой.*

В) возникновение и становление английского парламентаризма — 4) *гравюра с изображением английского Парламента.*

Г) укрепление великокняжеской власти во II половине XV в. — 3) *монета с изображением герба и печати Ивана III.*

Ответ: 1243

Правильный ответ на задание 1 оценивается 2 баллами. Если в ответе допущена одна ошибка (в том числе написана лишняя цифра или не написана одна необходимая цифра), выставляется 1 балл; если допущено две или более ошибки – 0 баллов.

Полный правильный ответ на каждое из заданий 2, 8, 9 оценивается 1 баллом; неполный, неверный ответ или его отсутствие – 0 баллов.

2. Прочтите отрывок из исторического источника и определите, к какому из данных событий (процессов) он относится. В ответе напишите букву, которой обозначено это событие (процесс).

«Заложил Ярослав город великий, у того же града Золотые ворота; заложил и церковь святой Софии, митрополию, и затем церковь на Золотых воротах — святой Богородицы Благовещения, затем монастырь святого Георгия и святой Ирины. И стала при нём вера христианская плодиться и расширяться, и черноризцы стали умножаться, и монастыри появляться. И любил Ярослав церковные уставы, попов любил немало, особенно же черноризцев, и книги любил, читая их часто и ночью и днём. И собрал писцов многих, и переводили они с греческого на славянский язык. И написали они книг множество, ими же поучаются верующие люди и

наслаждаются учением божественным. Как если один землю вспашет, другой же засеет, а иные жнут и едят пищу неоскудевающую, — так и этот. Отец ведь его Владимир землю вспахал и размягчил, то есть крещением просветил. Этот же засеял книжными словами сердца верующих людей, а мы пожинаем, учение принимая книжное».

Перечень событий (процессов)

- А) внутренняя политика киевского князя в 1019–1054 гг.
 Б) политическое развитие русских земель с республиканской формой правления в XII–XV вв.
 В) ордынское владычество на Руси
 Г) падение Византийской империи

Пояснение.

Данный фрагмент текста относится к варианту А) внутренняя политика киевского князя в 1019–1054 гг., так как в тексте говорится о деятельности Ярослава Мудрого, который правил в эти годы в Киеве.

Ответ: А

3. С каким из данных событий (процессов) связано слово «Меровинги»? Запишите букву, которой обозначено данное событие (процесс).

Объясните смысл слова «Меровинги».

Перечень событий (процессов)

- А) разделение Древнерусского государства на отдельные княжества и земли
 Б) образование Франкского государства
 В) формирование единого Русского государства в 1462–1505 гг.
 Г) борьба за первенство в Северо-Восточной Руси в XIV в.

Пояснение.

1) Б.

2) Меровинги — династия франкских королей, начало которой положил Хлодвиг I Меровинг.

Критерии проверки:

Критерии оценивания выполнения задания	Баллы
Буква указана неправильно / не указана независимо от наличия/отсутствия объяснения смысла слова. ИЛИ Приведены рассуждения общего характера, не соответствующие требованию задания. ИЛИ Ответ неправильный	0
Правильно указана только буква	1

Правильно указана буква, объяснение содержит неточность(-и), существенно не искажающую(-ие) смысла слова «ярлык». ИЛИ Правильно указана буква, объяснение содержит не основные, а только второстепенные (несущественные) признаки, не в полной мере раскрывающие смысл слова «ярлык»	2
Правильно указана буква и объяснён смысл слова «ярлык»	3
<i>Максимальный балл</i>	3

4. Выберите одно событие (процесс) из перечня, а затем выполните задания 4–7, рассматривая в каждом из заданий выбранное событие (процесс). В заданиях 4–7 буквы должны быть одинаковыми.

Укажите две исторические личности, непосредственно связанные с выбранным Вами событием (процессом).

Укажите одно любое действие каждой из этих личностей, в значительной степени повлиявшее на ход и (или) результат этого события (процесса).

Ответ запишите в таблицу.

Не следует указывать исторические личности, упомянутые в отрывке из исторического источника в задании 2.

Личности	Действия
1.	
2.	

Перечень событий (процессов)

А) появление парламентаризма в Англии

Б) нашествие Батыя на Русь

В) процесс создания централизованного Русского государства Руси

Г) феодальная раздробленность на

Пояснение.

Возможный вариант ответа, если выбрали Б:

Личность Батый, действия: возглавлял поход в русские земли 1237-1242.

Личность князь Юрий Всеволодович, действия: сражался с Батыем на реке Сити

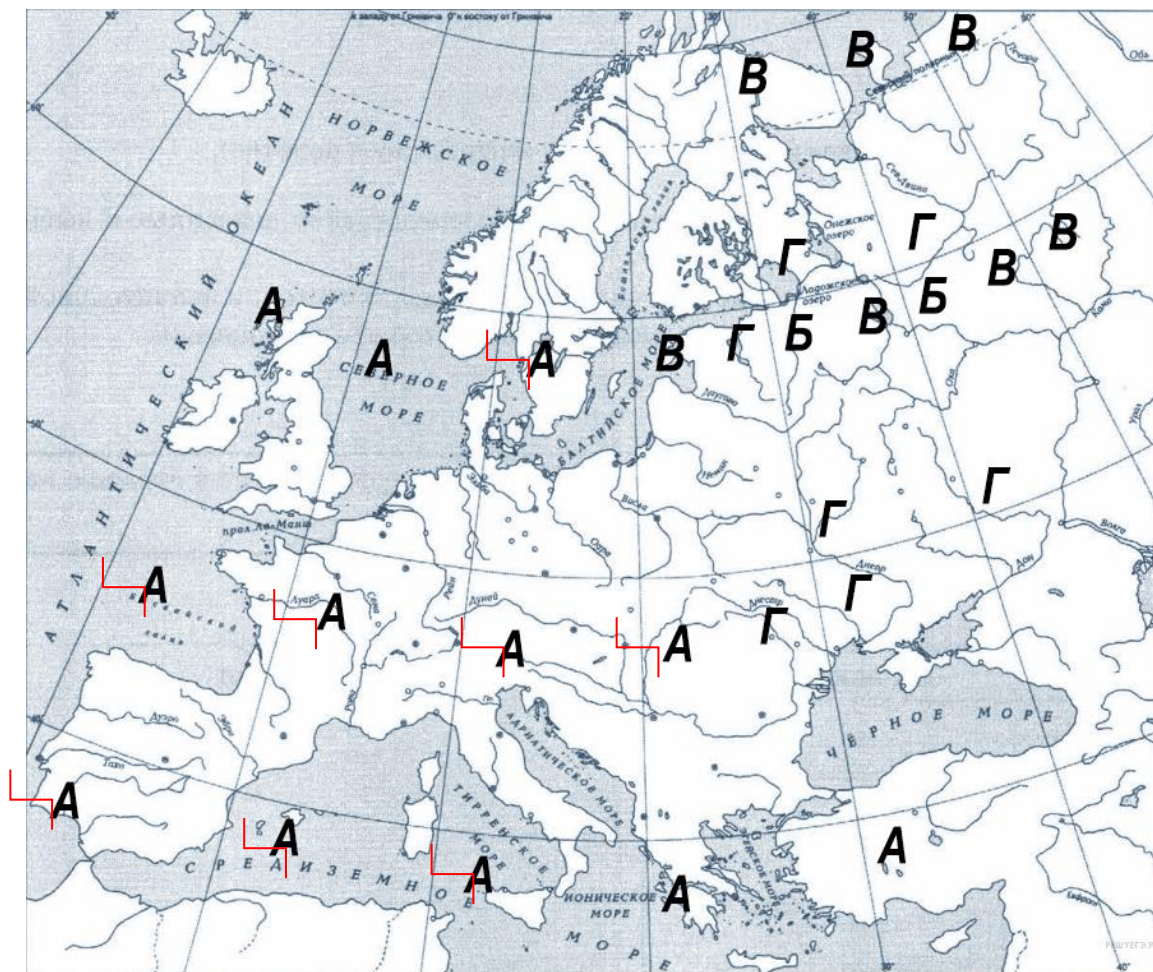
При оценивании ответа не засчитываются указания исторических личностей и их действий, упомянутых в отрывке из исторического источника в задании 2.

Критерии проверки:

Критерии оценивания выполнения задания	Баллы
Правильно указана только одна личность. ИЛИ Приведены рассуждения общего характера, не соответствующие требованию задания. ИЛИ Ответ неправильный	0
Правильно указаны только две личности	1
Правильно указаны одна-две личности и действия только одной из них	2
Правильно указаны две личности и действия каждой из них	3
<i>Максимальный балл</i>	3

5. Заштрихуйте на контурной карте Выберите на контурной карте один четырёхугольник, образованный градусной сеткой, в котором полностью или частично происходило выбранное Вами событие (процесс).

Пояснение.



Критерии проверки:

Критерии оценивания выполнения задания	Баллы
Заштрихован четырёхугольник, образованный градусной сеткой, в котором не происходило выбранное событие (процесс). ИЛИ Заштрихованы два или более четырёхугольника, в некоторых из заштрихованных четырёхугольников полностью или частично происходило выбранное событие (процесс). ИЛИ Задание не выполнено	0
Заштрихован четырёхугольник, образованный градусной сеткой, в котором (в которых)??? полностью или частично происходило выбранное событие (процесс) (допустимы небольшие отклонения, связанные с недостаточной аккуратностью)	1
<i>Максимальный балл</i>	1

6. Запишите название любого объекта (города, населённого пункта, реки или др.), который непосредственно связан с выбранным Вами событием (процессом).

Объясните, как указанный Вами объект (город, населённый пункт, река или др.) связан с этим событием (процессом).

Пояснение.

1. Название объекта

В ответе должны быть указаны объекты, непосредственно связанные с выбранным событием (процессом), например:

— Б — г. Рязань;

Могут быть указаны другие объекты.

2. Качество объяснения

В ответе должно быть дано объяснение, например:

— Рязань первая попала под удар Батыя.

Могут быть даны иные объяснения.

Критерии проверки:

Критерии оценивания выполнения задания	Баллы
1. Название объекта	1
Название объекта указано правильно	1

Название объекта указано неправильно. ИЛИ Задание не выполнено	0
2. Качество объяснения	2
Дано правильное объяснение	2
Объяснение содержит неточность(-и), существенно не искажающую(-ие) связи указанного объекта с выбранным событием (процессом). ИЛИ Дано неполное объяснение, отражающее только второстепенные связи указанного объекта с выбранным событием (процессом)	1
Приведены рассуждения общего характера, не соответствующие требованию задания. ИЛИ Объяснение дано неправильно. ИЛИ Задание не выполнено	0
<i>Максимальный балл</i>	<i>3</i>

7. Используя знание исторических фактов, объясните, почему это событие (процесс) имело большое значение в истории нашей страны и/или истории зарубежных стран.

Пояснение.

В ответе должно быть дано объяснение, например:

— Нашествие Батые на Русь привело к запустению и разрушению многих русских городов, развитие Руси задержалось лет на 100-150, Русь попала в зависимость от Орды (Б);

Могут быть даны иные объяснения.

Критерии проверки:

Критерии оценивания выполнения задания	Баллы
Объяснение значимости выбранного события (процесса) сформулировано в общей форме или на уровне обывденных представлений, без привлечения исторических фактов. ИЛИ Приведены рассуждения общего характера, не соответствующие требованию задания. ИЛИ Объяснение значимости выбранного события (процесса) не дано	0
Объяснение значимости выбранного события	1

(процесса) содержит неточность(-и), существенно не искажающую(-ие) ответа. ИЛИ Дано неполное объяснение значимости выбранного события (процесса), отражающее только его второстепенные последствия для истории нашей страны и/или истории зарубежных стран	
Дано объяснение значимости выбранного события (процесса) с опорой на исторические факты	2
<i>Максимальный балл</i>	2

8. На каких двух изображениях представлены памятниками культуры России, а на каких — памятники культуры зарубежных стран? Запишите в таблицу порядковые номера соответствующих изображений.

Ответ:

Памятники культуры России		Памятники культуры зарубежных стран	
<input type="checkbox"/>	<input type="checkbox"/>	<input type="checkbox"/>	<input type="checkbox"/>

Рассмотрите изображения памятников культуры и выполните задания 8.



1)



2)



3)



4)

Пояснение.

- 1) Ворота Хольстендор (Голштинские ворота), Германия, Любек.
- 2) минарет мечети Укба, Тунис, Кейруан.
- 3) Золотые ворота, Россия, Владимир.
- 4) Спасская башня, Россия, Москва.

Ответ: 3412

9. Укажите название события, которому посвящена повесть «Сказание о Мамаевом побоище».

Пояснение.

«Сказание о Мамаевом побоище» посвящено Куликовской битве.

Ответ: Куликовская битва.

10. Вспомните важнейшие события истории Вашего региона или населённого пункта и выполните задание.

Назовите одно любое историческое событие (явление, процесс), произошедшее в Вашем регионе.

Какое значение имело указанное Вами событие (явление, процесс) для Вашего региона, или населённого пункта, или нашей страны, или мира в целом?

Пояснение.

Если Санкт-Петербург и Ленинградская область:

1240 г. Невская битва. Победа Александра Ярославича над шведами остановила их продвижение в северо-западные земли Руси, подняла боевой дух русского народа, вселила в него уверенность в свои силы.

Критерии проверки:

Критерии оценивания выполнения задания	Баллы
1. Историческое событие (явление, процесс)	1
Правильно указано историческое событие (явление, процесс)	1
Ответ неправильный	0
2. Значение события (явления, процесса)	2
Правильно указано значение события (явления, процесса) для региона (населённого пункта, страны, мира)	2
Правильно указано значение события (явления, процесса) для региона (населённого пункта, страны, мира), при этом допущена(-ы) неточность(-и), существенно не искажающая(-ие) ответа. ИЛИ При указании значения события (явления, процесса) для региона (населённого пункта, страны, мира) названы не основные, а только второстепенные (несущественные) факты	1

Приведены рассуждения общего характера, не соответствующие требованию задания. ИЛИ Ответ неправильный	0
<i>Максимальный балл</i>	3

Система оценивания диагностической работы по истории

Каждое из заданий 1, 2, 8, 9 считается выполненным верно, если правильно указаны буква, последовательность цифр или слово (словосочетание).

Правильный ответ на задание 1 оценивается 2 баллами. Если в ответе допущена одна ошибка (в том числе написана лишняя цифра или не написана одна необходимая цифра), выставляется 1 балл; если допущено две или более ошибки – 0 баллов.

Полный правильный ответ на каждое из заданий 2, 8, 9 оценивается 1 баллом; неполный, неверный ответ или его отсутствие – 0 баллов.

Рекомендации по переводу первичных баллов в отметки по пятибалльной шкале

Отметка по пятибалльной шкале	«2»	«3»	«4»	«5»
Первичные баллы	0–5	6–10	11–15	16–20

Промежуточная аттестация по истории за учебный год для учащихся 6 класса

1. Каждая из иллюстраций, приведённых ниже, относится к одному из указанных в перечне событий (процессов). Установите соответствие между событиями (процессами) и иллюстрациями: к каждому событию (процессу) подберите по одной иллюстрации.




1)



2)



3)



4)

Запишите в таблицу выбранные цифры под соответствующими буквами.

Ответ:

А	Б	В	Г
<input type="checkbox"/>	<input type="checkbox"/>	<input type="checkbox"/>	<input type="checkbox"/>

Перечень событий (процессов)

А) внешняя политика первых русских князей в 882–972 гг.

В) возникновение и становление английского парламентаризма

Б) поддержка Русской Православной Церковью процесса объединения русских земель в XIV в.

Г) укрепление великокняжеской власти во II половине XV в.

2. Прочтите отрывок из исторического источника и определите, к какому из данных событий (процессов) он относится. В ответе напишите букву, которой обозначено это событие (процесс).

«Заложил Ярослав город великий, у того же града Золотые ворота; заложил и церковь святой Софии, митрополию, и затем церковь на Золотых воротах — святой Богородицы Благовещения, затем монастырь святого Георгия и святой Ирины. И

стала при нём вера христианская плодиться и расширяться, и черноризцы стали умножаться, и монастыри появляться. И любил Ярослав церковные уставы, попов любил немало, особенно же черноризцев, и книги любил, читая их часто и ночью и днём. И собрал писцов многих, и переводили они с греческого на славянский язык. И написали они книг множество, ими же поучаются верующие люди и наслаждаются учением божественным. Как если один землю вспашет, другой же засеет, а иные жнут и едят пищу неоскудевающую, — так и этот. Отец ведь его Владимир землю вспахал и размягчил, то есть крещением просветил. Этот же засеял книжными словами сердца верующих людей, а мы пожинаем, учение принимая книжное».

Перечень событий (процессов)

- А) внутренняя политика киевского князя в 1019–1054 гг.
Б) политическое развитие русских земель с республиканской формой правления в XII–XV вв.
В) ордынское владычество на Руси
Г) падение Византийской империи

3. С каким из данных событий (процессов) связано слово «Меровинги»? Запишите букву, которой обозначено данное событие (процесс).

Объясните смысл слова «Меровинги».

Перечень событий (процессов)

- А) разделение Древнерусского государства на отдельные княжества и земли
Б) образование Франкского государства
В) формирование единого Русского государства в 1462–1505 гг.
Г) борьба за первенство в Северо-Восточной Руси в XIV в.

Выберите одно событие (процесс) из перечня, а затем выполните задания 4–7, рассматривая в каждом из заданий выбранное событие (процесс).

В заданиях 4–7 буквы должны быть одинаковыми.

Перечень событий (процессов)

- А) появление парламентаризма в Англии
Б) нашествие Батыя на Русь
В) процесс создания централизованного Русского государства
Г) феодальная раздробленность на Руси

4. Укажите две исторические личности, непосредственно связанные с выбранным Вами событием (процессом).

Укажите одно любое действие каждой из этих личностей, в значительной степени повлиявшее на ход и (или) результат этого события (процесса).

Ответ запишите в таблицу.

Не следует указывать исторические личности, упомянутые в отрывке из исторического источника в задании 2.

Ли чности	Действия
1.	
2.	

5. Выберите на контурной карте один четырёхугольник, образованный градусной сеткой, в котором полностью или частично происходило выбранное Вами событие (процесс).

России		стран	
<input type="checkbox"/>	<input type="checkbox"/>	<input type="checkbox"/>	<input type="checkbox"/>

Рассмотрите изображения памятников культуры и выполните задания 8.



1)



2)



3)



4)

9. Укажите название события, которому посвящена повесть «Сказание о Мамаевом побоище».

Ответ: _____

10. Вспомните важнейшие события истории Вашего региона или населённого пункта и выполните задание.

Назовите одно любое историческое событие (явление, процесс), произошедшее в Вашем регионе.

Какое значение имело указанное Вами событие (явление, процесс) для Вашего региона, или населённого пункта, или нашей страны, или мира в целом?